



Express each number using tally marks.

1) 26 _____

2) 36 _____

3) 47 _____

4) 21 _____

5) 19 _____

6) 30 _____

7) 91 _____

8) 98 _____

9) 70 _____




10) 97 _____

11) 22 _____

12) 35 _____



Express each number using tally marks.

1) 26 2) 36 3) 47 4) 21 5) 19 6) 30 7) 91 8) 98 9) 70 10) 97 11) 22 12) 35 