



Use > , < or = to compare.

Answers

1) -36 _____ -83

1. _____

2) -37 _____ -57

2. _____

3) -44 _____ -64

3. _____

4) -34 _____ -94

4. _____

5) -86 _____ -85

5. _____

6) -38 _____ -96

6. _____

7) -51 _____ -52

7. _____

8) -92 _____ -93

8. _____

9) -60 _____ 65

9. _____

10) -54 _____ 60

10. _____

11) -42 _____ -32

11. _____

12) -30 _____ -29

12. _____

13) -28 _____ 33

13. _____

14) -36 _____ 43

14. _____

15) -29 _____ -28

15. _____

16) -83 _____ -82

16. _____

17) -85 _____ 88

17. _____

18) -23 _____ -24

18. _____

19) -77 _____ -76

19. _____

20) -81 _____ -82

20. _____



Use > , < or = to compare.

- 1) -36 > -83
- 2) -37 > -57
- 3) -44 > -64
- 4) -34 > -94
- 5) -86 < -85
- 6) -38 > -96
- 7) -51 > -52
- 8) -92 > -93
- 9) -60 < 65
- 10) -54 < 60
- 11) -42 < -32
- 12) -30 < -29
- 13) -28 < 33
- 14) -36 < 43
- 15) -29 < -28
- 16) -83 < -82
- 17) -85 < 88
- 18) -23 > -24
- 19) -77 < -76
- 20) -81 > -82

Answers

- 1. >
- 2. >
- 3. >
- 4. >
- 5. <
- 6. >
- 7. >
- 8. >
- 9. <
- 10. <
- 11. <
- 12. <
- 13. <
- 14. <
- 15. <
- 16. <
- 17. <
- 18. >
- 19. <
- 20. >



Use > , < or = to compare.

1) -97 _____ -98

2) -79 _____ -80

3) -31 _____ 33

4) -48 _____ -44

5) -28 _____ -27

6) -89 _____ -88

7) -100 _____ 94

8) -73 _____ 74

9) -90 _____ -91

10) -100 _____ -99

11) -100 _____ 90

12) -59 _____ -93

13) -32 _____ -26

14) -91 _____ 100

15) -55 _____ -89

16) -59 _____ -60

17) -85 _____ 94

18) -77 _____ -78

19) -50 _____ -49

20) -41 _____ -40

Answers

1. _____

2. _____

3. _____

4. _____

5. _____

6. _____

7. _____

8. _____

9. _____

10. _____

11. _____

12. _____

13. _____

14. _____

15. _____

16. _____

17. _____

18. _____

19. _____

20. _____

Use $>$, $<$ or $=$ to compare.

1) $-97 > -98$

2) $-79 > -80$

3) $-31 < 33$

4) $-48 < -44$

5) $-28 < -27$

6) $-89 < -88$

7) $-100 < 94$

8) $-73 < 74$

9) $-90 > -91$

10) $-100 < -99$

11) $-100 < 90$

12) $-59 > -93$

13) $-32 < -26$

14) $-91 < 100$

15) $-55 > -89$

16) $-59 > -60$

17) $-85 < 94$

18) $-77 > -78$

19) $-50 < -49$

20) $-41 < -40$

Answers

1. $>$

2. $>$

3. $<$

4. $<$

5. $<$

6. $<$

7. $<$

8. $<$

9. $>$

10. $<$

11. $<$

12. $>$

13. $<$

14. $<$

15. $>$

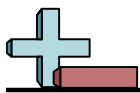
16. $>$

17. $<$

18. $>$

19. $<$

20. $<$



Use $>$, $<$ or $=$ to compare.

Answers

- 1) -83 _____ -41
- 2) -41 _____ -42
- 3) -90 _____ -89
- 4) -94 _____ -38
- 5) -81 _____ -82
- 6) -61 _____ -22
- 7) -96 _____ -53
- 8) -83 _____ -84
- 9) -66 _____ -30
- 10) -43 _____ -78
- 11) -90 _____ 96
- 12) -96 _____ -63
- 13) -84 _____ 80
- 14) -31 _____ -30
- 15) -40 _____ 44
- 16) -32 _____ 29
- 17) -51 _____ -52
- 18) -72 _____ 62
- 19) -59 _____ -60
- 20) -33 _____ -32

- 1. _____
- 2. _____
- 3. _____
- 4. _____
- 5. _____
- 6. _____
- 7. _____
- 8. _____
- 9. _____
- 10. _____
- 11. _____
- 12. _____
- 13. _____
- 14. _____
- 15. _____
- 16. _____
- 17. _____
- 18. _____
- 19. _____
- 20. _____

Use $>$, $<$ or $=$ to compare.

1) $-83 < -41$

2) $-41 > -42$

3) $-90 < -89$

4) $-94 < -38$

5) $-81 > -82$

6) $-61 < -22$

7) $-96 < -53$

8) $-83 > -84$

9) $-66 < -30$

10) $-43 > -78$

11) $-90 < 96$

12) $-96 < -63$

13) $-84 < 80$

14) $-31 < -30$

15) $-40 < 44$

16) $-32 < 29$

17) $-51 > -52$

18) $-72 < 62$

19) $-59 > -60$

20) $-33 < -32$

Answers1. $<$ 2. $>$ 3. $<$ 4. $<$ 5. $>$ 6. $<$ 7. $<$ 8. $>$ 9. $<$ 10. $>$ 11. $<$ 12. $<$ 13. $<$ 14. $<$ 15. $<$ 16. $<$ 17. $>$ 18. $<$ 19. $>$ 20. $<$



Use > , < or = to compare.

1) -72 _____ -35

2) -43 _____ -42

3) -49 _____ 53

4) -91 _____ -90

5) -87 _____ 85

6) -61 _____ -81

7) -28 _____ 22

8) -69 _____ 70

9) -53 _____ 47

10) -88 _____ -44

11) -62 _____ -36

12) -53 _____ 49

13) -22 _____ -23

14) -34 _____ -33

15) -67 _____ 64

16) -56 _____ -100

17) -82 _____ 85

18) -60 _____ -59

19) -30 _____ -43

20) -94 _____ 90

Answers

1. _____

2. _____

3. _____

4. _____

5. _____

6. _____

7. _____

8. _____

9. _____

10. _____

11. _____

12. _____

13. _____

14. _____

15. _____

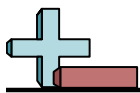
16. _____

17. _____

18. _____

19. _____

20. _____

Use $>$, $<$ or $=$ to compare.

1) $-72 < -35$

2) $-43 < -42$

3) $-49 < 53$

4) $-91 < -90$

5) $-87 < 85$

6) $-61 > -81$

7) $-28 < 22$

8) $-69 < 70$

9) $-53 < 47$

10) $-88 < -44$

11) $-62 < -36$

12) $-53 < 49$

13) $-22 > -23$

14) $-34 < -33$

15) $-67 < 64$

16) $-56 > -100$

17) $-82 < 85$

18) $-60 < -59$

19) $-30 > -43$

20) $-94 < 90$

Answers

1. $<$

2. $<$

3. $<$

4. $<$

5. $<$

6. $>$

7. $<$

8. $<$

9. $<$

10. $<$

11. $<$

12. $<$

13. $>$

14. $<$

15. $<$

16. $>$

17. $<$

18. $<$

19. $>$

20. $<$

Use $>$, $<$ or $=$ to compare.

1) -95 _____ -94

2) -59 _____ -60

3) -69 _____ -70

4) -91 _____ 87

5) -78 _____ -49

6) -100 _____ -54

7) -55 _____ 46

8) -32 _____ 27

9) -34 _____ 40

10) -75 _____ -67

11) -96 _____ -97

12) -47 _____ 44

13) -90 _____ -89

14) -95 _____ -96

15) -42 _____ 36

16) -36 _____ -37

17) -43 _____ -40

18) -35 _____ -84

19) -30 _____ -29

20) -28 _____ 27

Answers

1. _____

2. _____

3. _____

4. _____

5. _____

6. _____

7. _____

8. _____

9. _____

10. _____

11. _____

12. _____

13. _____

14. _____

15. _____

16. _____

17. _____

18. _____

19. _____

20. _____

Use $>$, $<$ or $=$ to compare.

1) $-95 < -94$

2) $-59 > -60$

3) $-69 > -70$

4) $-91 < 87$

5) $-78 < -49$

6) $-100 < -54$

7) $-55 < 46$

8) $-32 < 27$

9) $-34 < 40$

10) $-75 < -67$

11) $-96 > -97$

12) $-47 < 44$

13) $-90 < -89$

14) $-95 > -96$

15) $-42 < 36$

16) $-36 > -37$

17) $-43 < -40$

18) $-35 > -84$

19) $-30 < -29$

20) $-28 < 27$

Answers

1. $<$

2. $>$

3. $>$

4. $<$

5. $<$

6. $<$

7. $<$

8. $<$

9. $<$

10. $<$

11. $>$

12. $<$

13. $<$

14. $>$

15. $<$

16. $>$

17. $<$

18. $>$

19. $<$

20. $<$



Use > , < or = to compare.

Answers

1) -87 _____ -88

1. _____

2) -47 _____ -48

2. _____

3) -91 _____ 90

3. _____

4) -55 _____ -54

4. _____

5) -76 _____ -77

5. _____

6) -55 _____ -21

6. _____

7) -32 _____ -31

7. _____

8) -29 _____ -30

8. _____

9) -69 _____ -49

9. _____

10) -59 _____ -60

10. _____

11) -96 _____ -97

11. _____

12) -80 _____ -81

12. _____

13) -69 _____ 67

13. _____

14) -53 _____ 57

14. _____

15) -34 _____ 31

15. _____

16) -91 _____ 83

16. _____

17) -83 _____ 93

17. _____

18) -46 _____ 44

18. _____

19) -89 _____ -52

19. _____

20) -64 _____ -65

20. _____

Use $>$, $<$ or $=$ to compare.

1) $-87 > -88$

2) $-47 > -48$

3) $-91 < 90$

4) $-55 < -54$

5) $-76 > -77$

6) $-55 < -21$

7) $-32 < -31$

8) $-29 > -30$

9) $-69 < -49$

10) $-59 > -60$

11) $-96 > -97$

12) $-80 > -81$

13) $-69 < 67$

14) $-53 < 57$

15) $-34 < 31$

16) $-91 < 83$

17) $-83 < 93$

18) $-46 < 44$

19) $-89 < -52$

20) $-64 > -65$

Answers

1. $>$

2. $>$

3. $<$

4. $<$

5. $>$

6. $<$

7. $<$

8. $>$

9. $<$

10. $>$

11. $>$

12. $>$

13. $<$

14. $<$

15. $<$

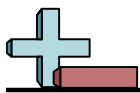
16. $<$

17. $<$

18. $<$

19. $<$

20. $>$

Use $>$, $<$ or $=$ to compare.

1) -96 _____ 99

2) -76 _____ -93

3) -82 _____ 85

4) -49 _____ -48

5) -55 _____ 46

6) -74 _____ -70

7) -85 _____ -41

8) -48 _____ 45

9) -39 _____ -96

10) -30 _____ -21

11) -44 _____ -54

12) -32 _____ -31

13) -72 _____ -61

14) -91 _____ 98

15) -69 _____ 78

16) -60 _____ 52

17) -36 _____ 40

18) -39 _____ 36

19) -42 _____ -43

20) -27 _____ -87

Answers

1. _____

2. _____

3. _____

4. _____

5. _____

6. _____

7. _____

8. _____

9. _____

10. _____

11. _____

12. _____

13. _____

14. _____

15. _____

16. _____

17. _____

18. _____

19. _____

20. _____

Use $>$, $<$ or $=$ to compare.

1) $-96 < 99$

2) $-76 > -93$

3) $-82 < 85$

4) $-49 < -48$

5) $-55 < 46$

6) $-74 < -70$

7) $-85 < -41$

8) $-48 < 45$

9) $-39 > -96$

10) $-30 < -21$

11) $-44 > -54$

12) $-32 < -31$

13) $-72 < -61$

14) $-91 < 98$

15) $-69 < 78$

16) $-60 < 52$

17) $-36 < 40$

18) $-39 < 36$

19) $-42 > -43$

20) $-27 > -87$

Answers

1. $<$

2. $>$

3. $<$

4. $<$

5. $<$

6. $<$

7. $<$

8. $<$

9. $>$

10. $<$

11. $>$

12. $<$

13. $<$

14. $<$

15. $<$

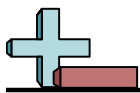
16. $<$

17. $<$

18. $<$

19. $>$

20. $>$



Use > , < or = to compare.

Answers

1) -65 _____ -64

1. _____

2) -26 _____ -42

2. _____

3) -59 _____ -76

3. _____

4) -86 _____ -25

4. _____

5) -98 _____ -97

5. _____

6) -39 _____ -40

6. _____

7) -74 _____ -75

7. _____

8) -58 _____ 56

8. _____

9) -39 _____ 42

9. _____

10) -44 _____ -45

10. _____

11) -75 _____ -76

11. _____

12) -55 _____ 65

12. _____

13) -29 _____ -100

13. _____

14) -84 _____ 79

14. _____

15) -72 _____ 81

15. _____

16) -79 _____ -80

16. _____

17) -26 _____ 36

17. _____

18) -50 _____ -51

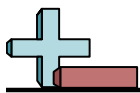
18. _____

19) -48 _____ -47

19. _____

20) -82 _____ 83

20. _____

Use $>$, $<$ or $=$ to compare.

1) $-65 < -64$

2) $-26 > -42$

3) $-59 > -76$

4) $-86 < -25$

5) $-98 < -97$

6) $-39 > -40$

7) $-74 > -75$

8) $-58 < 56$

9) $-39 < 42$

10) $-44 > -45$

11) $-75 > -76$

12) $-55 < 65$

13) $-29 > -100$

14) $-84 < 79$

15) $-72 < 81$

16) $-79 > -80$

17) $-26 < 36$

18) $-50 > -51$

19) $-48 < -47$

20) $-82 < 83$

Answers

1. $<$

2. $>$

3. $>$

4. $<$

5. $<$

6. $>$

7. $>$

8. $<$

9. $<$

10. $>$

11. $>$

12. $<$

13. $>$

14. $<$

15. $<$

16. $>$

17. $<$

18. $>$

19. $<$

20. $<$



Use > , < or = to compare.

Answers

1) -64 _____ 62

1. _____

2) -39 _____ -98

2. _____

3) -23 _____ -37

3. _____

4) -39 _____ 37

4. _____

5) -80 _____ -55

5. _____

6) -74 _____ 65

6. _____

7) -21 _____ -22

7. _____

8) -83 _____ 79

8. _____

9) -66 _____ -35

9. _____

10) -60 _____ -49

10. _____

11) -52 _____ -53

11. _____

12) -93 _____ 97

12. _____

13) -20 _____ 16

13. _____

14) -93 _____ -94

14. _____

15) -62 _____ -57

15. _____

16) -78 _____ -77

16. _____

17) -24 _____ -23

17. _____

18) -79 _____ -30

18. _____

19) -34 _____ -63

19. _____

20) -45 _____ -44

20. _____

Use $>$, $<$ or $=$ to compare.

1) $-64 < 62$

2) $-39 > -98$

3) $-23 > -37$

4) $-39 < 37$

5) $-80 < -55$

6) $-74 < 65$

7) $-21 > -22$

8) $-83 < 79$

9) $-66 < -35$

10) $-60 < -49$

11) $-52 > -53$

12) $-93 < 97$

13) $-20 < 16$

14) $-93 > -94$

15) $-62 < -57$

16) $-78 < -77$

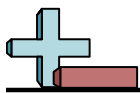
17) $-24 < -23$

18) $-79 < -30$

19) $-34 > -63$

20) $-45 < -44$

Answers1. $<$ 2. $>$ 3. $>$ 4. $<$ 5. $<$ 6. $<$ 7. $>$ 8. $<$ 9. $<$ 10. $<$ 11. $>$ 12. $<$ 13. $<$ 14. $>$ 15. $<$ 16. $<$ 17. $<$ 18. $<$ 19. $>$ 20. $<$



Use > , < or = to compare.

Answers

1) -84 _____ -83

1. _____

2) -88 _____ -91

2. _____

3) -28 _____ 35

3. _____

4) -53 _____ 59

4. _____

5) -92 _____ -70

5. _____

6) -91 _____ -54

6. _____

7) -21 _____ -22

7. _____

8) -81 _____ -80

8. _____

9) -77 _____ -76

9. _____

10) -22 _____ 28

10. _____

11) -71 _____ -62

11. _____

12) -76 _____ 85

12. _____

13) -46 _____ 38

13. _____

14) -74 _____ -67

14. _____

15) -45 _____ 51

15. _____

16) -30 _____ -31

16. _____

17) -55 _____ -76

17. _____

18) -30 _____ 21

18. _____

19) -85 _____ 75

19. _____

20) -72 _____ 67

20. _____

Use $>$, $<$ or $=$ to compare.

1) $-84 < -83$

2) $-88 > -91$

3) $-28 < 35$

4) $-53 < 59$

5) $-92 < -70$

6) $-91 < -54$

7) $-21 > -22$

8) $-81 < -80$

9) $-77 < -76$

10) $-22 < 28$

11) $-71 < -62$

12) $-76 < 85$

13) $-46 < 38$

14) $-74 < -67$

15) $-45 < 51$

16) $-30 > -31$

17) $-55 > -76$

18) $-30 < 21$

19) $-85 < 75$

20) $-72 < 67$

Answers1. $<$ 2. $>$ 3. $<$ 4. $<$ 5. $<$ 6. $<$ 7. $>$ 8. $<$ 9. $<$ 10. $<$ 11. $<$ 12. $<$ 13. $<$ 14. $<$ 15. $<$ 16. $>$ 17. $>$ 18. $<$ 19. $<$ 20. $<$