



Determine if the angle shown is 'less', 'more' or 'equal' to 90°.

Answers

Ex)



1)



2)



Ex. **less**

1. \_\_\_\_\_

2. \_\_\_\_\_

3)



4)



5)



3. \_\_\_\_\_

4. \_\_\_\_\_

5. \_\_\_\_\_

6)



7)



8)



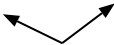
6. \_\_\_\_\_

7. \_\_\_\_\_

9)



10)



11)



8. \_\_\_\_\_

9. \_\_\_\_\_

10. \_\_\_\_\_

12)



13)



14)



11. \_\_\_\_\_

12. \_\_\_\_\_

13. \_\_\_\_\_

15)



16)



17)



14. \_\_\_\_\_

15. \_\_\_\_\_

16. \_\_\_\_\_

18)



19)



20)



17. \_\_\_\_\_

18. \_\_\_\_\_

19. \_\_\_\_\_

20. \_\_\_\_\_



Determine if the angle shown is 'less', 'more' or 'equal' to 90°.

Ex)



1)



2)



Ex.

**less**

3)



4)



5)



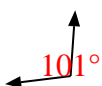
1.

**equal**

2.

**more**

6)



7)



8)



3.

**less**

4.

**equal**

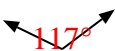
5.

**less**

9)



10)



11)



6.

**more**

7.

**equal**

8.

**more**

12)



13)



14)



9.

**less**

10.

**more**

11.

**equal**

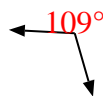
15)



16)



17)



12.

**more**

13.

**less**

14.

**less**

18)



19)



20)



15.

**equal**

16.

**more**

17.

**more**

18.

**equal**

19.

**equal**

20.

**equal**