



Determine if the angle shown is 'less', 'more' or 'equal' to 90°.

Answers

Ex)



1)



2)



Ex. less

1. _____

2. _____

3)



4)



5)



3. _____

4. _____

6)



7)



8)



6. _____

7. _____

9)



10)




11)



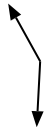
9. _____

10. _____

12)



13)



14)



12. _____

13. _____

15)



16)



17)



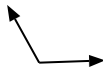
15. _____

16. _____

18)



19)



20)



18. _____

19. _____

20. _____

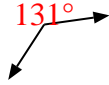


Determine if the angle shown is 'less', 'more' or 'equal' to 90° .

Ex)



1)



2)



Ex.

less

3)



4)



5)



1.

more

2.

more

3.

less

4.

equal

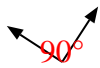
5.

more

6)



7)



8)



6.

equal

7.

equal

8.

equal

9)



10)



11)



9.

more

10.

less

11.

equal

12)



13)



14)



12.

more

13.

more

14.

less

15)



16)



17)



15.

less

16.

equal

17.

less

18)



19)



20)



18.

equal

19.

more

20.

equal