



**Express each number using tally marks.**

1) 86

---

2) 73

---

3) 43

---

4) 100

---

5) 89

---

6) 26

---

7) 15

---

8) 29

---

9) 57

---

10) 71

---

11) 77

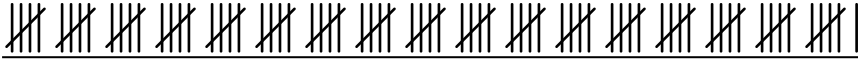
---


12) 82

---



Express each number using tally marks.

1) 86 

2) 73 

3) 43 

4) 100 


5) 89 

6) 26 

7) 15 

8) 29 

9) 57 

10) 71 

11) 77 

12) 82 



**Express each number using tally marks.**

1) 41 \_\_\_\_\_

2) 21 \_\_\_\_\_

3) 8 \_\_\_\_\_

4) 55 \_\_\_\_\_

5) 62 \_\_\_\_\_

6) 19 \_\_\_\_\_

7) 16 \_\_\_\_\_

8) 77 \_\_\_\_\_

9) 23 \_\_\_\_\_

10) 86 \_\_\_\_\_

11) 7 \_\_\_\_\_

12) 9 \_\_\_\_\_




Express each number using tally marks.

1) 41 

---

2) 21 

---

3) 8 

---

4) 55 

---

5) 62 

---

6) 19 

---

7) 16 

---

8) 77 


---

9) 23 


---

10) 86 

---

11) 7 

---

12) 9 

---



**Express each number using tally marks.**

1) 39 \_\_\_\_\_

2) 96 \_\_\_\_\_

3) 54 \_\_\_\_\_

4) 11 \_\_\_\_\_

5) 68 \_\_\_\_\_

6) 42 \_\_\_\_\_

7) 34 \_\_\_\_\_

8) 50 \_\_\_\_\_

9) 24 \_\_\_\_\_


10) 95 \_\_\_\_\_

11) 48 \_\_\_\_\_

12) 23 \_\_\_\_\_



Express each number using tally marks.

1) 39 

2) 96 

3) 54 

4) 11 

5) 68 

6) 42 

7) 34 

8) 50 

9) 24 

10) 95 

11) 48 

12) 23 



**Express each number using tally marks.**

1) 34 \_\_\_\_\_

2) 80 \_\_\_\_\_

3) 64 \_\_\_\_\_

4) 33 \_\_\_\_\_

5) 30 \_\_\_\_\_

6) 94 \_\_\_\_\_

7) 31 \_\_\_\_\_

8) 56 \_\_\_\_\_

9) 96 \_\_\_\_\_


10) 10 \_\_\_\_\_

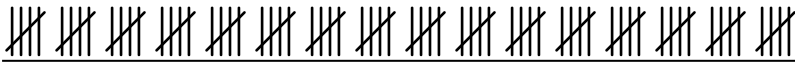
11) 73 \_\_\_\_\_

12) 100 \_\_\_\_\_



Express each number using tally marks.

1) 34 

2) 80 

3) 64 


4) 33 

5) 30 

6) 94 

7) 31 

8) 56 

9) 96 

10) 10 

11) 73 

12) 100 





**Express each number using tally marks.**

1) 68 \_\_\_\_\_

2) 94 \_\_\_\_\_

3) 72 \_\_\_\_\_

4) 98 \_\_\_\_\_

5) 31 \_\_\_\_\_

6) 55 \_\_\_\_\_

7) 40 \_\_\_\_\_

8) 23 \_\_\_\_\_

9) 66 \_\_\_\_\_

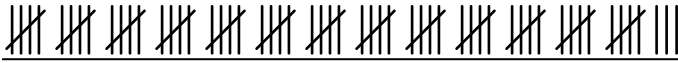
10) 12 \_\_\_\_\_


11) 63 \_\_\_\_\_

12) 80 \_\_\_\_\_



Express each number using tally marks.

1) 68 

2) 94 

3) 72 


4) 98 

5) 31 


6) 55 

7) 40 

8) 23 

9) 66 

10) 12 

11) 63 

12) 80 



**Express each number using tally marks.**

1) 29 \_\_\_\_\_

2) 56 \_\_\_\_\_

3) 9 \_\_\_\_\_

4) 22 \_\_\_\_\_

5) 77 \_\_\_\_\_

6) 61 \_\_\_\_\_

7) 68 \_\_\_\_\_

8) 72 \_\_\_\_\_

9) 100 \_\_\_\_\_

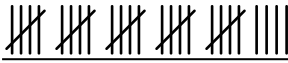
10) 57 \_\_\_\_\_


11) 78 \_\_\_\_\_

12) 37 \_\_\_\_\_



Express each number using tally marks.

1) 29 


2) 56 

3) 9 

4) 22 


5) 77 


6) 61 

7) 68 

8) 72 

9) 100 

10) 57 

11) 78 

12) 37 



Express each number using tally marks.

1) 82

\_\_\_\_\_

2) 86

\_\_\_\_\_

3) 6

\_\_\_\_\_

4) 57

\_\_\_\_\_

5) 81

\_\_\_\_\_

6) 56

\_\_\_\_\_

7) 46

\_\_\_\_\_

8) 68

\_\_\_\_\_

9) 62

\_\_\_\_\_

10) 17

\_\_\_\_\_

11) 26

\_\_\_\_\_

12) 84

\_\_\_\_\_



Express each number using tally marks.

1) 82 \_\_\_\_\_

2) 86 \_\_\_\_\_

3) 6 \_\_\_\_\_

4) 57 \_\_\_\_\_

5) 81 \_\_\_\_\_

6) 56 \_\_\_\_\_

7) 46 \_\_\_\_\_

8) 68 \_\_\_\_\_

9) 62 \_\_\_\_\_

10) 17 \_\_\_\_\_

11) 26 \_\_\_\_\_

12) 84 \_\_\_\_\_



**Express each number using tally marks.**

1) 45 \_\_\_\_\_

2) 30 \_\_\_\_\_

3) 53 \_\_\_\_\_

4) 62 \_\_\_\_\_

5) 79 \_\_\_\_\_

6) 10 \_\_\_\_\_

7) 55 \_\_\_\_\_

8) 21 \_\_\_\_\_

9) 29 \_\_\_\_\_

10) 36 \_\_\_\_\_

11) 90 \_\_\_\_\_

12) 84 \_\_\_\_\_



Express each number using tally marks.

1) 45 

2) 30 

3) 53 

4) 62 

5) 79 


6) 10 

7) 55 

8) 21 

9) 29 

10) 36 

11) 90 

12) 84 





**Express each number using tally marks.**

1) 21 \_\_\_\_\_

2) 11 \_\_\_\_\_

3) 13 \_\_\_\_\_

4) 65 \_\_\_\_\_

5) 45 \_\_\_\_\_

6) 63 \_\_\_\_\_

7) 18 \_\_\_\_\_

8) 87 \_\_\_\_\_

9) 72 \_\_\_\_\_

10) 51 \_\_\_\_\_

11) 91 \_\_\_\_\_

12) 41 \_\_\_\_\_



Express each number using tally marks.

1) 21 

---

2) 11 

---

3) 13 

---

4) 65 

---

5) 45 

---

6) 63 

---

7) 18 

---

8) 87 


---

9) 72 


---

10) 51 

---

11) 91 

---

12) 41 

---



**Express each number using tally marks.**

1) 78

---

2) 96

---

3) 20

---

4) 56

---

5) 46

---

6) 18

---

7) 32

---

8) 73

---

9) 70

---

10) 85

---

11) 79

---


12) 16

---



Express each number using tally marks.

1) 78 

2) 96 

3) 20 

4) 56 


5) 46 

6) 18 

7) 32 

8) 73 

9) 70 

10) 85 

11) 79 

12) 16 