



Express each number using tally marks.

1) 29 _____

2) 56 _____

3) 9 _____

4) 22 _____

5) 77 _____

6) 61 _____

7) 68 _____

8) 72 _____

9) 100 _____


10) 57 _____


11) 78 _____

12) 37 _____



Express each number using tally marks.

1) 29 

2) 56 


3) 9 


4) 22 


5) 77 


6) 61 

7) 68 

8) 72 

9) 100 

10) 57 

11) 78 

12) 37 