



Express each number using tally marks.

1) 41 _____

2) 21 _____

3) 8 _____

4) 55 _____

5) 62 _____

6) 19 _____

7) 16 _____

8) 77 _____

9) 23 _____

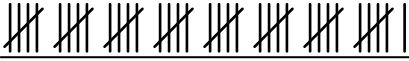
10) 86 _____

11) 7 _____


12) 9 _____



Express each number using tally marks.

1) 41 

2) 21 

3) 8 

4) 55 

5) 62 


6) 19 

7) 16 

8) 77 

9) 23 

10) 86 

11) 7 

12) 9 