



Express each number using tally marks.

1) 86 _____

2) 73 _____

3) 43 _____

4) 100 _____

5) 89 _____

6) 26 _____

7) 15 _____

8) 29 _____

9) 57 _____

10) 71 _____


11) 77 _____

12) 82 _____



Express each number using tally marks.

1) 86 

2) 73 

3) 43 


4) 100 


5) 89 

6) 26 

7) 15 

8) 29 

9) 57 

10) 71 

11) 77 

12) 82 