





















Determine the value of each set of tally marks.

Answers

- 1)  1. _____
- 2)  2. _____
- 3)  3. _____
- 4)  4. _____
- 5)  5. _____
- 6)  6. _____
- 7)  7. _____
- 8)  8. _____
- 9)  9. _____
- 10)  10. _____
- 11)  11. _____
- 12)  12. _____
- 13)  13. _____
- 14)  14. _____
- 15)  15. _____
- 16)  16. _____
- 17)  17. _____
- 18)  18. _____



Determine the value of each set of tally marks.

Answers

- | | |
|-----|---------------|
| 1) | 1. <u>38</u> |
| 2) | 2. <u>18</u> |
| 3) | 3. <u>43</u> |
| 4) | 4. <u>10</u> |
| 5) | 5. <u>20</u> |
| 6) | 6. <u>22</u> |
| 7) | 7. <u>41</u> |
| 8) | 8. <u>9</u> |
| 9) | 9. <u>25</u> |
| 10) | 10. <u>12</u> |
| 11) | 11. <u>14</u> |
| 12) | 12. <u>24</u> |
| 13) | 13. <u>35</u> |
| 14) | 14. <u>34</u> |
| 15) | 15. <u>23</u> |
| 16) | 16. <u>26</u> |
| 17) | 17. <u>13</u> |
| 18) | 18. <u>13</u> |