














Determine the value of each set of tally marks.



















Answers

- 1)  1. \_\_\_\_\_
- 2)  2. \_\_\_\_\_
- 3)  3. \_\_\_\_\_
- 4)  4. \_\_\_\_\_
- 5)  5. \_\_\_\_\_
- 6)  6. \_\_\_\_\_
- 7)  7. \_\_\_\_\_
- 8)  8. \_\_\_\_\_
- 9)  9. \_\_\_\_\_
- 10)  10. \_\_\_\_\_
- 11)  11. \_\_\_\_\_
- 12)  12. \_\_\_\_\_
- 13)  13. \_\_\_\_\_
- 14)  14. \_\_\_\_\_
- 15)  15. \_\_\_\_\_
- 16)  16. \_\_\_\_\_
- 17)  17. \_\_\_\_\_
- 18)  18. \_\_\_\_\_



Determine the value of each set of tally marks.

Answers

- 1)  1. 20
- 2)  2. 37
- 3)  3. 9
- 4)  4. 38
- 5)  5. 10
- 6)  6. 22
- 7)  7. 28
- 8)  8. 32
- 9)  9. 8
- 10)  10. 36
- 11)  11. 17
- 12)  12. 26
- 13)  13. 7
- 14)  14. 47
- 15)  15. 42
- 16)  16. 35
- 17)  17. 43
- 18)  18. 11

- 1. 20
- 2. 37
- 3. 9
- 4. 38
- 5. 10
- 6. 22
- 7. 28
- 8. 32
- 9. 8
- 10. 36
- 11. 17
- 12. 26
- 13. 7
- 14. 47
- 15. 46
- 16. 40
- 17. 49
- 18. 6