



Determine if the angle shown is 'less', 'more' or 'equal' to 90°.


Ex)



1)



2)



Answers

Ex. equal

1. _____

2. _____

3. _____

4. _____

5. _____

6. _____

7. _____

8. _____

9. _____

10. _____

11. _____

12. _____

13. _____

14. _____

15. _____

16. _____

17. _____

18. _____

19. _____

20. _____

3)



4)



5)



6)



7)



8)



9)



10)



11)



12)



13)



14)



15)



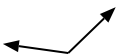
16)



17)



18)



19)



20)





Determine if the angle shown is 'less', 'more' or 'equal' to 90°.


Ex)



1)



2)



Answers

Ex. equal

1. equal

2. more

3. less

4. equal

5. equal

6. more

7. more

8. more

9. less

10. less

11. equal

12. less

13. less

14. less

15. equal

16. more

17. less

18. more

19. less

20. equal

3)



4)



5)



6)



7)



8)



9)



10)



11)



12)



13)



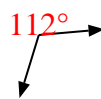
14)



15)



16)



17)



18)



19)



20)

