

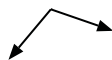


Determine if the angle shown is 'less', 'more' or 'equal' to 90°.

Ex)



1)



2)



Answers

Ex. less

1. _____

2. _____

3. _____

4. _____

5. _____

6. _____

7. _____

8. _____

9. _____

10. _____

11. _____

12. _____

13. _____

14. _____

15. _____

16. _____

17. _____

18. _____

19. _____

20. _____

3)



4)



5)



6)



7)



8)



9)



10)



11)



12)



13)



14)



15)



16)



17)



18)



19)



20)



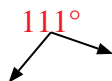


Determine if the angle shown is 'less', 'more' or 'equal' to 90°.

Ex)



1)



2)



Ex.

less

3)



4)



5)



1.

more

2.

more

3.

equal

4.

more

5.

more

6)



7)



8)



6.

less

7.

less

9)



10)



11)



8.

less

9.

less

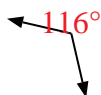
10.

more

11.

less

12)



13)



14)



12.

more

13.

less

15)



16)



17)



14.

equal

15.

equal

16.

equal

18)



19)



20)



17.

equal

18.

equal

19.

equal

20.

equal