



Determine if the angle shown is 'less', 'more' or 'equal' to 90°.

Ex)



1)



2)



Answers

Ex. less

3)



4)



5)



1. _____

2. _____

6)



7)



8)



3. _____

4. _____

5. _____

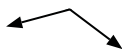
6. _____

7. _____

9)



10)



11)



8. _____

9. _____

10. _____

11. _____

12)



13)



14)



12. _____

13. _____

14. _____

15)



16)



17)



15. _____

16. _____

17. _____

18)



19)



20)



18. _____

19. _____

20. _____



Determine if the angle shown is 'less', 'more' or 'equal' to 90°.

Ex)



1)



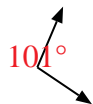
2)



Ex.

less

3)



4)



5)



1.

equal

2.

equal

3.

more

4.

equal

5.

more

6)



7)



8)



6.

equal

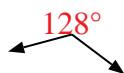
7.

equal

9)



10)



11)



8.

less

9.

equal

10.

more

11.

more

12)



13)



14)



12.

more

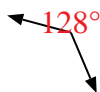
13.

less

15)



16)



17)



14.

equal

15.

less

16.

more

18)



19)



20)



17.

less

18.

equal

19.

less

20.

less