



Determine the value of each set of tally marks.



















Answers

- 1) 1. _____
- 2) 2. _____
- 3) 3. _____
- 4) 4. _____
- 5) 5. _____
- 6) 6. _____
- 7) 7. _____
- 8) 8. _____
- 9) 9. _____
- 10) 10. _____
- 11) 11. _____
- 12) 12. _____
- 13) 13. _____
- 14) 14. _____
- 15) 15. _____
- 16) 16. _____
- 17) 17. _____
- 18) 18. _____



Determine the value of each set of tally marks.






Answers

- | | |
|---|---------------|
| 1)  | 1. <u>22</u> |
| 2)  | 2. <u>7</u> |
| 3)  | 3. <u>8</u> |
| 4)  | 4. <u>48</u> |
| 5)  | 5. <u>31</u> |
| 6)  | 6. <u>42</u> |
| 7)  | 7. <u>49</u> |
| 8)  | 8. <u>24</u> |
| 9)  | 9. <u>17</u> |
| 10)  | 10. <u>6</u> |
| 11)  | 11. <u>39</u> |
| 12)  | 12. <u>45</u> |
| 13)  | 13. <u>34</u> |
| 14)  | 14. <u>27</u> |
| 15)  | 15. <u>47</u> |
| 16)  | 16. <u>30</u> |
| 17)  | 17. <u>28</u> |
| 18)  | 18. <u>29</u> |



Determine the value of each set of tally marks.



















Answers

- 1)  1. _____
- 2)  2. _____
- 3)  3. _____
- 4)  4. _____
- 5)  5. _____
- 6)  6. _____
- 7)  7. _____
- 8)  8. _____
- 9)  9. _____
- 10)  10. _____
- 11)  11. _____
- 12)  12. _____
- 13)  13. _____
- 14)  14. _____
- 15)  15. _____
- 16)  16. _____
- 17)  17. _____
- 18)  18. _____



Determine the value of each set of tally marks.

Answers

- 1)  1. 20
- 2)  2. 37
- 3)  3. 9
- 4)  4. 38
- 5)  5. 10
- 6)  6. 22
- 7)  7. 28
- 8)  8. 32
- 9)  9. 8
- 10)  10. 36
- 11)  11. 17
- 12)  12. 26
- 13)  13. 7
- 14)  14. 47
- 15)  15. 46
- 16)  16. 40
- 17)  17. 49
- 18)  18. 6



Determine the value of each set of tally marks.

Answers

- 1) 1. _____
- 2) 2. _____
- 3) 3. _____
- 4) 4. _____
- 5) 5. _____
- 6) 6. _____
- 7) 7. _____
- 8) 8. _____
- 9) 9. _____
- 10) 10. _____
- 11) 11. _____
- 12) 12. _____
- 13) 13. _____
- 14) 14. _____
- 15) 15. _____
- 16) 16. _____
- 17) 17. _____
- 18) 18. _____



Determine the value of each set of tally marks.

Answers

- 1) 1. 18
- 2) 2. 17
- 3) 3. 26
- 4) 4. 7
- 5) 5. 44
- 6) 6. 22
- 7) 7. 6
- 8) 8. 13
- 9) 9. 15
- 10) 10. 45
- 11) 11. 29
- 12) 12. 38
- 13) 13. 41
- 14) 14. 14
- 15) 15. 36
- 16) 16. 39
- 17) 17. 42
- 18) 18. 37



Determine the value of each set of tally marks.

Answers

- 1) 1. _____
- 2) 2. _____
- 3) 3. _____
- 4) 4. _____
- 5) 5. _____
- 6) 6. _____
- 7) 7. _____
- 8) 8. _____
- 9) 9. _____
- 10) 10. _____
- 11) 11. _____
- 12) 12. _____
- 13) 13. _____
- 14) 14. _____
- 15) 15. _____
- 16) 16. _____
- 17) 17. _____
- 18) 18. _____



Determine the value of each set of tally marks.

Answers

- 1) 1. 12
- 2) 2. 26
- 3) 3. 24
- 4) 4. 19
- 5) 5. 29
- 6) 6. 47
- 7) 7. 27
- 8) 8. 30
- 9) 9. 7
- 10) 10. 31
- 11) 11. 32
- 12) 12. 43
- 13) 13. 49
- 14) 14. 37
- 15) 15. 15
- 16) 16. 13
- 17) 17. 36
- 18) 18. 40



Determine the value of each set of tally marks.

Answers

- 1) 1. _____
- 2) 2. _____
- 3) 3. _____
- 4) 4. _____
- 5) 5. _____
- 6) 6. _____
- 7) 7. _____
- 8) 8. _____
- 9) 9. _____
- 10) 10. _____
- 11) 11. _____
- 12) 12. _____
- 13) 13. _____
- 14) 14. _____
- 15) 15. _____
- 16) 16. _____
- 17) 17. _____
- 18) 18. _____



Determine the value of each set of tally marks.

Answers

- 1) 1. 17
- 2) 2. 36
- 3) 3. 13
- 4) 4. 15
- 5) 5. 6
- 6) 6. 19
- 7) 7. 16
- 8) 8. 48
- 9) 9. 27
- 10) 10. 37
- 11) 11. 35
- 12) 12. 39
- 13) 13. 34
- 14) 14. 26
- 15) 15. 45
- 16) 16. 41
- 17) 17. 25
- 18) 18. 49



Determine the value of each set of tally marks.

Answers

1)

1. _____

2)

2. _____

3)

3. _____

4)

4. _____

5)

5. _____

6)

6. _____

7)

7. _____

8)

8. _____

9)

9. _____

10)

10. _____

11)

11. _____

12)

12. _____

13)

13. _____

14)

14. _____

15)

15. _____

16)

16. _____

17)

17. _____

18)

18. _____



Determine the value of each set of tally marks.

Answers

- | | |
|-----|---------------|
| 1) | 1. <u>38</u> |
| 2) | 2. <u>18</u> |
| 3) | 3. <u>43</u> |
| 4) | 4. <u>10</u> |
| 5) | 5. <u>20</u> |
| 6) | 6. <u>22</u> |
| 7) | 7. <u>41</u> |
| 8) | 8. <u>9</u> |
| 9) | 9. <u>25</u> |
| 10) | 10. <u>12</u> |
| 11) | 11. <u>39</u> |
| 12) | 12. <u>24</u> |
| 13) | 13. <u>35</u> |
| 14) | 14. <u>34</u> |
| 15) | 15. <u>23</u> |
| 16) | 16. <u>26</u> |
| 17) | 17. <u>13</u> |
| 18) | 18. <u>9</u> |



Determine the value of each set of tally marks.

Answers

- 1)
- 2)
- 3)
- 4)
- 5)
- 6)
- 7)
- 8)
- 9)
- 10)
- 11)
- 12)
- 13)
- 14)
- 15)
- 16)
- 17)
- 18)

- 1. _____
- 2. _____
- 3. _____
- 4. _____
- 5. _____
- 6. _____
- 7. _____
- 8. _____
- 9. _____
- 10. _____
- 11. _____
- 12. _____
- 13. _____
- 14. _____
- 15. _____
- 16. _____
- 17. _____
- 18. _____



Determine the value of each set of tally marks.

Answers

- | | |
|-----|---------------|
| 1) | 1. <u>39</u> |
| 2) | 2. <u>27</u> |
| 3) | 3. <u>38</u> |
| 4) | 4. <u>20</u> |
| 5) | 5. <u>14</u> |
| 6) | 6. <u>40</u> |
| 7) | 7. <u>22</u> |
| 8) | 8. <u>7</u> |
| 9) | 9. <u>6</u> |
| 10) | 10. <u>49</u> |
| 11) | 11. <u>15</u> |
| 12) | 12. <u>47</u> |
| 13) | 13. <u>42</u> |
| 14) | 14. <u>31</u> |
| 15) | 15. <u>18</u> |
| 16) | 16. <u>30</u> |
| 17) | 17. <u>32</u> |
| 18) | 18. <u>34</u> |



Determine the value of each set of tally marks.

Answers

1)

1. _____

2)

2. _____

3)

3. _____

4)

4. _____

5)

5. _____

6)

6. _____

7)

7. _____

8)

8. _____

9)

9. _____

10)

10. _____

11)

11. _____

12)

12. _____

13)

13. _____

14)

14. _____

15)

15. _____

16)

16. _____

17)

17. _____



















18)

18. _____



Determine the value of each set of tally marks.

Answers

- | | |
|---|---------------|
| 1)  | 1. <u>22</u> |
| 2)  | 2. <u>47</u> |
| 3)  | 3. <u>40</u> |
| 4)  | 4. <u>9</u> |
| 5)  | 5. <u>39</u> |
| 6)  | 6. <u>33</u> |
| 7)  | 7. <u>48</u> |
| 8)  | 8. <u>17</u> |
| 9)  | 9. <u>32</u> |
| 10)  | 10. <u>20</u> |
| 11)  | 11. <u>19</u> |
| 12)  | 12. <u>15</u> |
| 13)  | 13. <u>23</u> |
| 14)  | 14. <u>26</u> |
| 15)  | 15. <u>31</u> |
| 16)  | 16. <u>36</u> |
| 17)  | 17. <u>14</u> |
| 18)  | 18. <u>27</u> |



Determine the value of each set of tally marks.

Answers

- 1)
- 2)
- 3)
- 4)
- 5)
- 6)
- 7)
- 8)
- 9)
- 10)
- 11)
- 12)
- 13)
- 14)
- 15)
- 16)
- 17)
- 18)

- 1. _____
- 2. _____
- 3. _____
- 4. _____
- 5. _____
- 6. _____
- 7. _____
- 8. _____
- 9. _____
- 10. _____
- 11. _____
- 12. _____
- 13. _____
- 14. _____
- 15. _____
- 16. _____
- 17. _____
- 18. _____



Determine the value of each set of tally marks.
















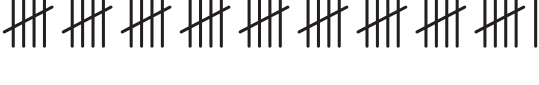


Answers

- 1) 1. 31
- 2) 2. 43
- 3) 3. 30
- 4) 4. 27
- 5) 5. 33
- 6) 6. 28
- 7) 7. 13
- 8) 8. 16
- 9) 9. 23
- 10) 10. 37
- 11) 11. 10
- 12) 12. 48
- 13) 13. 6
- 14) 14. 47
- 15) 15. 29
- 16) 16. 39
- 17) 17. 32
- 18) 18. 50



Determine the value of each set of tally marks.

Answers

- 1) 
- 2) 
- 3) 
- 4) 
- 5) 
- 6) 
- 7) 
- 8) 
- 9) 
- 10) 
- 11) 
- 12) 
- 13) 
- 14) 
- 15) 
- 16) 
- 17) 
- 18) 

- 1. _____
- 2. _____
- 3. _____
- 4. _____
- 5. _____
- 6. _____
- 7. _____
- 8. _____
- 9. _____
- 10. _____
- 11. _____
- 12. _____
- 13. _____
- 14. _____
- 15. _____
- 16. _____
- 17. _____
- 18. _____



Determine the value of each set of tally marks.

Answers

1)	1. <u>24</u>
2)	2. <u>40</u>
3)	3. <u>39</u>
4)	4. <u>9</u>
5)	5. <u>34</u>
6)	6. <u>45</u>
7)	7. <u>44</u>
8)	8. <u>12</u>
9)	9. <u>31</u>
10)	10. <u>19</u>
11)	11. <u>38</u>
12)	12. <u>42</u>
13)	13. <u>23</u>
14)	14. <u>50</u>
15)	15. <u>46</u>
16)	16. <u>10</u>
17)	17. <u>48</u>
18)	