



Determine the value of each set of tally marks.



















Answers

- 1) 1. _____
- 2) 2. _____
- 3) 3. _____
- 4) 4. _____
- 5) 5. _____
- 6) 6. _____
- 7) 7. _____
- 8) 8. _____
- 9) 9. _____
- 10) 10. _____
- 11) 11. _____
- 12) 12. _____
- 13) 13. _____
- 14) 14. _____
- 15) 15. _____
- 16) 16. _____
- 17) 17. _____
- 18) 18. _____



Determine the value of each set of tally marks.

Answers

1) 	1. <u>12</u>
2) 	2. <u>26</u>
3) 	3. <u>24</u>
4) 	4. <u>19</u>
5) 	5. <u>29</u>
6) 	6. <u>47</u>
7) 	7. <u>27</u>
8) 	8. <u>30</u>
9) 	9. <u>7</u>
10) 	10. <u>31</u>
11) 	11. <u>32</u>
12) 	12. <u>43</u>
13) 	13. <u>49</u>
14) 	14. <u>37</u>
15) 	15. <u>15</u>
16) 	16. <u>13</u>
17) 	17. <u>36</u>
18) 	18. <u>40</u>