



Determine if the angle shown is 'less', 'more' or 'equal' to 90°.

Answers

Ex)



1)



2)



Ex. equal

1. \_\_\_\_\_

2. \_\_\_\_\_

3)



4)



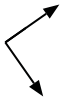
5)



3. \_\_\_\_\_

4. \_\_\_\_\_

6)



7)



8)



5. \_\_\_\_\_

6. \_\_\_\_\_

7. \_\_\_\_\_

9)



10)



11)



8. \_\_\_\_\_

9. \_\_\_\_\_

10. \_\_\_\_\_

12)



13)



14)



11. \_\_\_\_\_

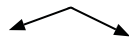
12. \_\_\_\_\_

13. \_\_\_\_\_

15)



16)



17)



14. \_\_\_\_\_

15. \_\_\_\_\_

16. \_\_\_\_\_

18)



19)



20)



17. \_\_\_\_\_

18. \_\_\_\_\_

19. \_\_\_\_\_

20. \_\_\_\_\_

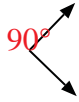
20. \_\_\_\_\_



Determine if the angle shown is 'less', 'more' or 'equal' to  $90^\circ$ .

Answers

Ex)



1)



2)



Ex. equal

1. more

2. more

3)



4)



5)



3. equal

4. less

6)



7)



8)



5. less

6. equal

7. more

9)



10)



11)



8. less

9. equal

10. equal

12)



13)



14)



11. less


12. less

13. less

15)



16)



17)



14. less

15. more

16. more

18)



19)



20)



17. equal

18. equal

19. less

20. equal