



Determine if the angle shown is 'less', 'more' or 'equal' to 90°.

Ex)



1)



2)



Ex. equal

1. _____

2. _____

3)



4)



5)



3. _____

4. _____

6)



7)



8)



5. _____

6. _____

7. _____

9)



10)



11)



8. _____

9. _____

10. _____

11. _____

12)



13)



14)



12. _____

13. _____

14. _____

15)



16)



17)



15. _____


16. _____

17. _____

18)



19)



20)



18. _____

19. _____

20. _____



Determine if the angle shown is 'less', 'more' or 'equal' to 90°.

Ex)



1)



2)



Ex.

equal

1.

more

2.

less

3.

equal

4.

less

5.

less

6.

equal

7.

more

8.

more

9.

more

10.

equal

11.

less

12.

more

13.

equal

14.

equal

15.

less

16.

equal

17.

more

18.

equal

19.

more

20.

less

3)



4)



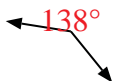
5)



6)




7)



8)



9)



10)



11)



12)



13)



14)



15)



16)



17)



18)



19)



20)

