



Determine if the angle shown is 'less', 'more' or 'equal' to 90°.

Ex)



1)



2)



Answers

Ex. less

3)



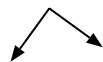
4)



5)



6)



7)



8)



9)



10)



11)



12)



13)



14)



15)



16)



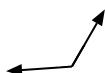
17)



18)



19)



20)



1. _____

2. _____

3. _____

4. _____

5. _____

6. _____

7. _____

8. _____

9. _____

10. _____

11. _____

12. _____

13. _____

14. _____

15. _____

16. _____

17. _____

18. _____

19. _____

20. _____



Determine if the angle shown is 'less', 'more' or 'equal' to 90°.

Ex)



1)



2)



Ex.

Answers

less

3)



4)



5)



1.

less

2.

more

3.

equal

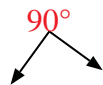
4.

equal

5.

less

6)



7)



8)



6.

equal

7.

equal

8.

more

9)



10)



11)



9.

less

10.

equal

11.

more

12)



13)



14)



12.

more

13.

less

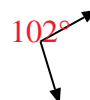
15)



16)



17)



14.

equal

15.

less

16.

equal

18)



19)



20)



17.

more

18.

equal

19.

more

20.

more