



Determine if the angle shown is 'less', 'more' or 'equal' to 90°.

Answers

Ex)



1)



2)

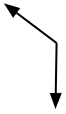


Ex. **equal**

1. \_\_\_\_\_

2. \_\_\_\_\_

3)



4)



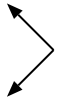
5)



3. \_\_\_\_\_

4. \_\_\_\_\_

6)



7)



8)



5. \_\_\_\_\_

6. \_\_\_\_\_

7. \_\_\_\_\_

9)



10)



11)



8. \_\_\_\_\_

9. \_\_\_\_\_

10. \_\_\_\_\_

12)



13)



14)



11. \_\_\_\_\_

12. \_\_\_\_\_

13. \_\_\_\_\_

15)



16)



17)



14. \_\_\_\_\_

15. \_\_\_\_\_

16. \_\_\_\_\_

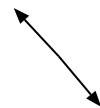
18)



19)



20)



17. \_\_\_\_\_

18. \_\_\_\_\_

19. \_\_\_\_\_

20. \_\_\_\_\_



Determine if the angle shown is 'less', 'more' or 'equal' to 90°.

Ex)



1)

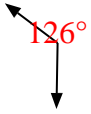


2)



Ex. equal

3)



4)



5)



1. less

2. equal

3. more

4. less

6)



7)



8)



5. more

6. equal

7. more

9)



10)



11)



8. less

9. more

10. equal

12)



13)



14)



11. less

12. less

13. less

15)



16)



17)



14. less

15. equal

16. less

18)



19)



20)



17. more

18. equal

19. equal

20. more