



Express each number using tally marks.

1) 81 _____

2) 91 _____

3) 45 _____

4) 63 _____

5) 64 _____

6) 18 _____

7) 59 _____

8) 71 _____

9) 37 _____

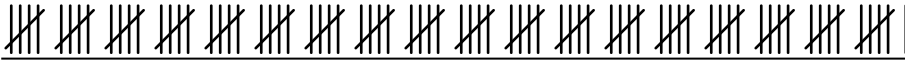

10) 79 _____

11) 31 _____

12) 80 _____



Express each number using tally marks.

1) 81 2) 91 3) 45 4) 63 5) 64 6) 18 7) 59 8) 71 9) 37 10) 79 11) 31 12) 80 



Express each number using tally marks.

1) 79 _____

2) 25 _____

3) 80 _____

4) 73 _____

5) 72 _____

6) 64 _____

7) 90 _____

8) 63 _____

9) 52 _____

10) 84 _____

11) 92 _____

12) 56 _____



Express each number using tally marks.

1) 79 _____

2) 25 _____

3) 80 _____

4) 73 _____

5) 72 _____

6) 64 _____

7) 90 _____

8) 63 _____

9) 52 _____

10) 84 _____

11) 92 _____

12) 56 _____



Express each number using tally marks.

1) 56 _____

2) 62 _____

3) 23 _____

4) 69 _____

5) 49 _____

6) 60 _____

7) 28 _____

8) 25 _____

9) 16 _____

10) 93 _____

11) 61 _____

12) 27 _____



Express each number using tally marks.

1) 56 2) 62 3) 23 4) 69 5) 49 6) 60 7) 28 8) 25 9) 16 10) 93 11) 61 12) 27 



Express each number using tally marks.

1) 26 _____

2) 36 _____

3) 47 _____

4) 21 _____

5) 19 _____

6) 30 _____

7) 91 _____

8) 98 _____

9) 70 _____





10) 97 _____

11) 22 _____

12) 35 _____



Express each number using tally marks.

1) 26 2) 36 3) 47 4) 21 5) 19 6) 30 7) 91 8) 98 9) 70 10) 97 11) 22 12) 35 



Express each number using tally marks.

1) 22 _____

2) 51 _____

3) 71 _____

4) 54 _____

5) 16 _____

6) 7 _____

7) 13 _____

8) 61 _____

9) 19 _____



10) 6 _____

11) 37 _____

12) 34 _____



Express each number using tally marks.

1) 22 2) 51 3) 71 4) 54 5) 16 6) 7 7) 13 8) 61 9) 19 10) 6 11) 37 12) 34 



Express each number using tally marks.

1) 88 _____

2) 95 _____

3) 21 _____

4) 22 _____

5) 44 _____

6) 73 _____

7) 15 _____

8) 34 _____

9) 96 _____


10) 6 _____

11) 23 _____

12) 100 _____



Express each number using tally marks.

1) 88 2) 95 3) 21 4) 22 5) 44 6) 73 7) 15 8) 34 9) 96 10) 6 11) 23 12) 100 



Express each number using tally marks.

1) 16 _____

2) 21 _____

3) 89 _____

4) 70 _____

5) 61 _____

6) 72 _____

7) 58 _____

8) 44 _____

9) 55 _____


10) 94 _____


11) 62 _____

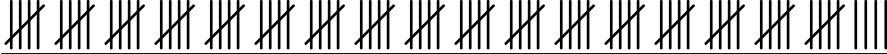
12) 95 _____



Express each number using tally marks.

1) 16 

2) 21 

3) 89 

4) 70 

5) 61 

6) 72 

7) 58 

8) 44 

9) 55 

10) 94 

11) 62 

12) 95 



Express each number using tally marks.

1) 43 _____

2) 23 _____

3) 71 _____

4) 19 _____

5) 47 _____

6) 7 _____

7) 69 _____

8) 74 _____

9) 64 _____

10) 78 _____

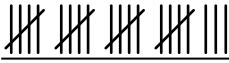
11) 32 _____

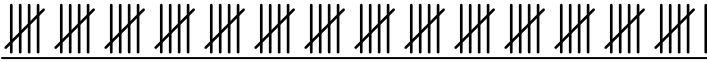
12) 65 _____



Express each number using tally marks.

1) 43 

2) 23 

3) 71 

4) 19 


5) 47 

6) 7 


7) 69 

8) 74 

9) 64 

10) 78 

11) 32 

12) 65 



Express each number using tally marks.

1) 54 _____

2) 10 _____

3) 85 _____

4) 77 _____

5) 83 _____

6) 84 _____

7) 86 _____

8) 28 _____

9) 19 _____

10) 72 _____

11) 44 _____

12) 52 _____



Express each number using tally marks.

1) 54

2) 10

3) 85

4) 77

5) 83

6) 84

7) 86

8) 28

9) 19

10) 72

11) 44

12) 52



Express each number using tally marks.

1) 61 _____

2) 35 _____

3) 49 _____

4) 15 _____

5) 52 _____

6) 16 _____

7) 75 _____

8) 12 _____

9) 11 _____


10) 31 _____

11) 37 _____

12) 87 _____



Express each number using tally marks.

1) 61 2) 35 3) 49 4) 15 5) 52 6) 16 7) 75 8) 12 9) 11 10) 31 11) 37 12) 87 