



Determine the value of each set of tally marks.

Answers

1)

1. \_\_\_\_\_

2)

2. \_\_\_\_\_

3)

3. \_\_\_\_\_

4)

4. \_\_\_\_\_

5)

5. \_\_\_\_\_

6)

6. \_\_\_\_\_

7)

7. \_\_\_\_\_

8)

8. \_\_\_\_\_

9)

9. \_\_\_\_\_

10)

10. \_\_\_\_\_

11)

11. \_\_\_\_\_

12)

12. \_\_\_\_\_

13)

13. \_\_\_\_\_

14)

14. \_\_\_\_\_

15)

15. \_\_\_\_\_

16)

16. \_\_\_\_\_

17)

17. \_\_\_\_\_





18)

18. \_\_\_\_\_



Determine the value of each set of tally marks.

Answers

- |  |               |
|--|---------------|
| 1)      | 1. <u>10</u>  |
| 2)      | 2. <u>33</u>  |
| 3)      | 3. <u>45</u>  |
| 4)      | 4. <u>20</u>  |
| 5)      | 5. <u>42</u>  |
| 6)      | 6. <u>26</u>  |
| 7)      | 7. <u>39</u>  |
| 8)      | 8. <u>15</u>  |
| 9)     | 9. <u>11</u>  |
| 10)   | 10. <u>34</u> |
| 11)   | 11. <u>13</u> |
| 12)   | 12. <u>8</u>  |
| 13)  | 13. <u>41</u> |
| 14)  | 14. <u>44</u> |
| 15)  | 15. <u>25</u> |
| 16)  | 16. <u>49</u> |
| 17)  | 17. <u>12</u> |
| 18)  | 18. <u>21</u> |